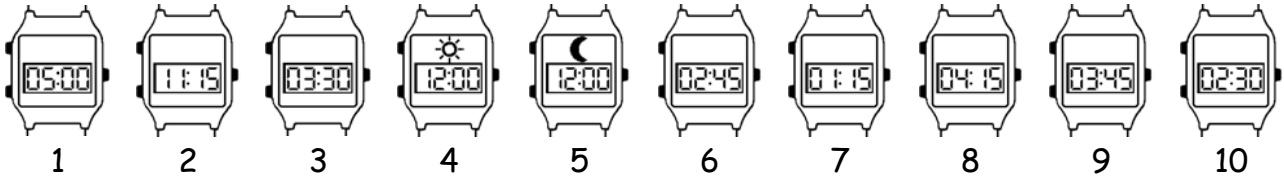


• **¿Qué hora es?**




• **Empareja los relojes y las horas:**




- Es la una y cuarto.
- Son las once y cuarto.
- Es mediodía.
- Son las cinco.
- Son las cuatro menos cuarto.

- Son las dos y media.
- Es medianoche.
- Son las tres menos cuarto.
- Son las tres y media.
- Son las cuatro y cuarto.

• **Colorea los relojes:**



- Son las nueve.
- Son las tres y cuarto.
- Son las ocho y media.
- Son las once y diez.
- Son las nueve menos cuarto.



- Es la una y veinte.
- Son las seis menos diez.
- Son las tres y media.
- Son las diez menos veinticinco.
- Es la una menos cuarto.

• **Completa los relojes y escribe las horas:**

